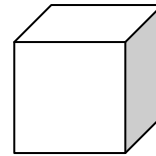



GEOMETRIE 1


1. Spoj názvy geometrických útvarů se správným útvarem:

čtverec




kruh

obdélník




trojúhelník

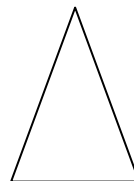
krychle



kvádr



válec

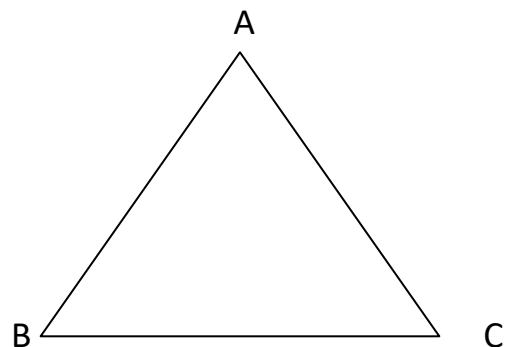


2. Jak se jmenují vrcholy trojúhelníku? , , .

Jak se jmenují strany trojúhelníku?

Která strana je nejdelší? ZMĚŘ, ZAPIŠ.

ZÁPIS:



3. Narýsuj čtverec ABCD , který má $|AB| = 4\text{cm}$, a rozděl ho tak, aby vznikly dva trojúhelníky. Označ jejich vrcholy a změř jejich stran. Zapiš:

Zápis:.....
.....
.....

4. Narýsuj rovnostranný trojúhelník, který má stranu $AB = 5\text{ cm}$: k odměření dalších stran použij i kružítko.