












Odpovědi v pracovních sešitech:

10. ČESKÝ STÁT ZA VLÁDY LUCEMBURKŮ

1. Doplň jména panovníků a jejich manželek z rodu Lucemburků.

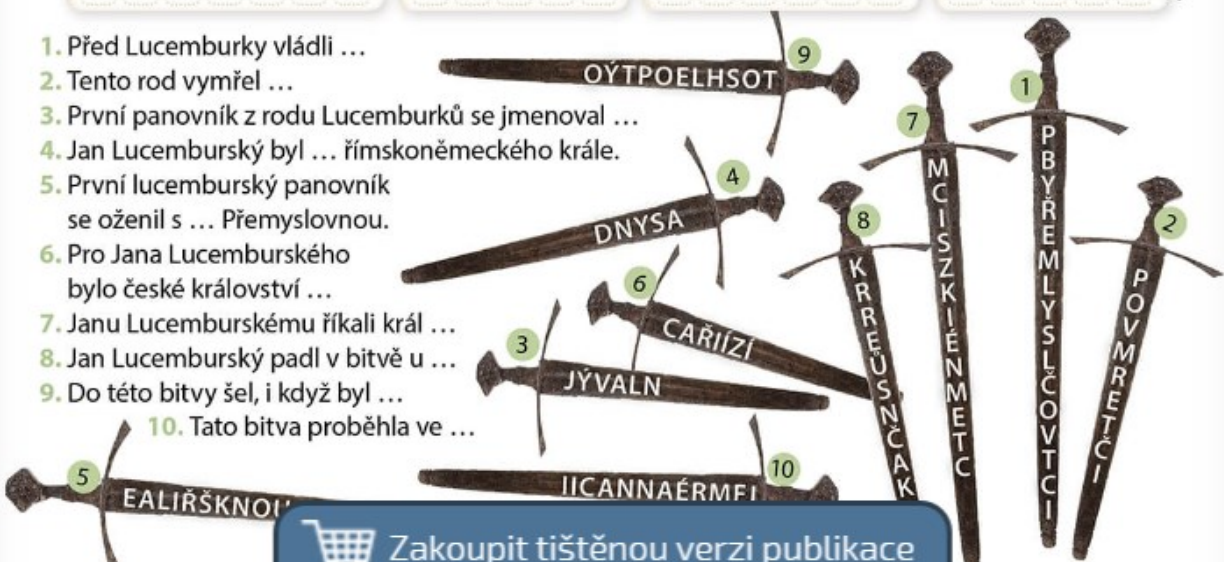
1. panovník	manželka	2. panovník	3. panovník	4. panovník
				
JAN LUCEMBURSKÝ	ELIŠKA PŘEMYSLOVNA	KAREL IV.	VÁCLAV IV.	ZIKMUND LUCEMBURSKÝ


	1. manželka	2. manželka	3. manželka	4. manželka	
					
Znak Lucemburků	B L A N K A	A N N A	A N N A	A L Ž B Ě T A	Znak Přemyslovců
	z Valois	Falcká	Svídnická	Pomořanská	

2. Vyškrtávej odpovědi po písmenech směrem od rukojeti meče k hrotu.
Ze zbylých písmen v pořadí podle čísel mečů sestavíš tajenku:

Proč má Karel IV. ve svém jméně číslo IV., když byl na českém trůně prvním vladařem s tímto jménem?
 Protože **B Y L Č T V R T Ý V L A D A Ř N A**
Ř Í M S K É M T R Ů N Ě T O H O T O J M É N A .

1. Před Lucemburky vládli ...
 2. Tento rod vymřel ...
 3. První panovník z rodu Lucemburků se jmenoval ...
 4. Jan Lucemburský byl ... římskoněmeckého krále.
 5. První lucemburský panovník se oženil s ... Přemyslovnou.
 6. Pro Jana Lucemburského bylo české království ...
 7. Janu Lucemburskému říkali král ...
 8. Jan Lucemburský padl v bitvě u ...
 9. Do této bitvy šel, i když byl ...
 10. Tato bitva proběhla ve ...

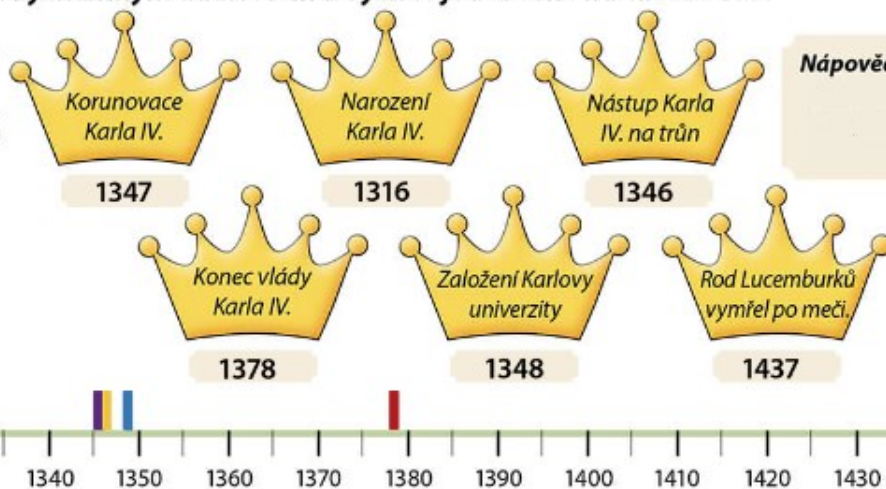


 **Zakoupit tištěnou verzi publikace**

10. ČESKÝ STÁT ZA VLÁDY LUCEMBURKŮ

3. Doplně letopočty k významným událostem a vyznač je barevně na časové ose.

- Korunovace Karla IV.
- Narození Karla IV.
- Konec vlády Karla IV.
- Nástup Karla IV. na trůn
- Rod Lucemburků vymřel po meči.
- Založení Karlovy univerzity



4. Ověř si své znalosti o Karlu IV. Doplně odpovědi do obrázku a dozvíš se o něm ještě něco navíc. (Z barevně označených písmen složíš tajenky.)

Že měl Karel IV. čtyři ženy, to jistě víš. Ale kolik s nimi měl dětí?

D V A N Á C T

1. Na místě Karlova mostu stál původně most ...
2. Karla IV. nazýváme Otcem ...
3. Původní název dnešního Karlova mostu:
4. Biřmování Karla IV. proběhlo ve ...
5. Původní jméno Karla IV.:
6. Který tělesný orgán Karlu IV. selhal a on zemřel?
7. Pro uložení korunovačních klenotů nechal Karel IV. postavit hrad ...



Jedno z Karlových dětí zemřelo v necelých dvou letech. Jmenovalo se

V Á C L A V

1. Karlův syn – následník trůnu:
2. Karel IV. nechal zhotovit korunu zvanou ...
3. Nejvyšší dosažený titul Karla IV.:
4. Jméno první Karlovy ženy:
5. Karel IV. ovládal čtyři cizí...



Zakoupit tištěnou verzi publikace

... Praha
... přední ...

5. Co všechno Karel IV. vybudoval? Doplň chybějící údaje. Z barevně označených písmen složíš tajenku:

Karel IV. zemřel, když mu bylo **Š E D E S Á T** **D V A** let.

K A R L Š T E J N P R A Ž S K Ý K R Á L O V S K Á

1. Hrad pro uložení korunovačnických klenotů: **H R A D**

2. Původní název cesty přes řeku: **K A M E N N Ý**

3. Opravil sídlo českých panovníků: **M O S T**

4. První vysoká škola ve střední Evropě: **U N I V E R Z I T A**

5. Místo pro uložení ostatků panovníků: **K A R L O V A**

CH R Á M A R C I B I S K U P S T V Í

S V A T Ě H O

6. Kostel v centru sídla českých panovníků: **V Í T A**

7. Část Prahy: **N O V É**

8. Stěna, kterou stavěli lidé za jídlo: **M Ě S T O**

9. Pro korunovaci nechal zhotovit: **S V A T O V Á C L A V S K Á**

10. Založil pro českou církev: **K O R U N A**

H L A D O V Á **Z E Ď**

6. Přiřaď správně ke každému Lucemburkovi tři charakteristiky. (Označ je příslušnými barvami.)

V českých zemích moc nepobýval, ale podařilo se mu získat další území.

„Toho bohdá nebude, aby český král z boje utíkal!“

Jeho smrtí vymřel rod Lucemburků po meči.

Církev ho za českého krále nepřijala.

Za jeho vlády české země vzkvátaly.

Vystupovala proti němu česká šlechta i jeho vlastní bratr.

Nejvýznamnější lucemburský panovník, obnovil pořádek v Čechách.

Stal se českým králem díky sňatku s Eliškou Přemyslovnou.

Platil otcovy dluhy, na dlouhou dobu udržel v Čechách mír.

Za jeho vlády nastala doba chudoby a moru.

Za jeho vlády církev utlačovala chudé, proti tomu vystoupil Jan Hus.

Za jeho vlády vypukly husitské války.






Jan Lucemburský **Karel IV.** **Václav IV.** **Zikmund**



Opakování II. – Život za vlády Přemyslovců a Lucemburků

1. Vyplň křížovku a tajenku doplň do věty:

Za vlády Václava IV. v katolické církvi zastávali úřad tři papežové. Tomuto stavu se říká

T R O J S C H I Z M A



Dobové zobrazení Jana Lucemburského

- Husitské město
- Obydlí šlechticů
- Město, kde zemřel Václav III.
- Křestní jméno Husa
- Místo smrti Jana Lucemburského
- Velký kostel
- Centrum těžby stříbra
- Přemysl Otakar II. – král železný a ...
- Říkali mu Liška ryšavá.
- Křestní jméno: Braniborský

Erb Lucemburků



Přemyslovská orlice



2. Odpověz správně ANO/NE a vybarvi políčko odpovědi. (Již v období Lucemburků se objevují první kamenné dlažby uspořádané do obrazců. Pokud správně odpovíš, objevíš jednu z možností tehdejšího dláždění.)

- Jan Lucemburský byl manželem Blanky z Valois.
- Roku 1310 vymřel rod Přemyslovců po meči.
- Roku 1437 vymřel rod Lucemburků po meči.
- Kosmova Kronika česká je psána latinsky.



3. I na bankovkách bývají vyobrazeny některé významné osobnosti. Dopiš jejich jména. (Nápovědy ti pomůžou.)



ANEŽKA ČESKÁ

dcera Přemysla Otakara I.



KAREL IV.

nazývaný „Otec vlasti“



PŘEMYSL OTAKAR I.

první český král s dědičným titulem

Platnost této bankovky skončila v srpnu 2008.



11. ŽIVOT VE STŘEDOVĚKU

1. Nejvyšší postavení po panovníkovi měla ve středověku šlechta. Spoj čarami charakteristiku a zástupce šlechtického stavu.



Páni

Zemani



2. Církev se ve středověku vnitřně dělila. Doplň správně text a písmena k obrázkům:

A) vysocí církevní hodnostáři

- **BISKUPOVÉ** a arcibiskupové

B) řadoví příslušníci církve

- **KNĚŽÍ** a mniši



3. Vylušti křížovku a doplň slovo z tajenky do věty:

Pokrývka hlavy církevních hodnostářů se nazývá: **M I T R A**

- obyvatel kláštera
- základní kniha církve
- velká církevní stavba
- jeden z biskupských symbolů
- malá církevní stavba



4. V architektuře se ve 14. století uplatňoval gotický sloh. Doplň hlavní znaky gotiky. Pomůže ti obrázek.

- stavby se spoustou **VYSOKÝCH VĚŽÍ**
- okna tvaru obdélníku, zakončena **LOMENÝM** obloukem
- typické gotické stavby - **HRADY**, **KOSTELY** a kláštery.
- okna často zdobena tzv. vitrážemi – obrazy sestavenými z **BAREVNÝCH SKLÍČEK**



11. ŽIVOT VE STŘEDOVĚKU

5. Doplně ke každému obrázku s charakteristikou názvu skupiny, ke které zobrazený obyvatel vesnice ve středověku patřil.



Hlavní skupina venkovského obyvatelstva, odváděla panovníkovi, ale také šlechtě dávky.

PODDANÍ



Nejmenší skupina venkovského obyvatelstva, ti nejbohatší

SEDLÁCI



Nejchudší obyvatelé, nevlastnili žádné pozemky, vydělávali si práci na cizích pozemcích.

BEZZEMCI

6. Doplně správně chybějící slova do textu:

Nejbohatší skupinou ve městech byli

OBCHODNÍCI, chudší pak

ŘEMESLNÍCI (např. kováři, krejčí). Městskou chudinu tvořili např.

TO VARYŠI, učedníci, dělníci a **ZEBRÁCI**.

7. Místo názvů byly ve středověku řemeslné dílny označovány vývěsními štíty. Nakresli, jakým štítem mohla být označena tato řemesla.

